



Domotique et confort - Séquence 1

Je sais identifier le problème. Je sais décrire sous forme de texte ou de schéma le fonctionnement d'un système.

Nom : _____ Prénom : _____ Classe : _____



On peut voir sur la photo ci-contre la disposition de notre entrée.

Quel sont les problèmes posés ?

Premier problème : « **Comment voir le visiteur à distance, prendre connaissance du motif de sa visite avant d'ouvrir le portail ?** ».

En vous aidant de la vidéo, expliquez sur comment fonctionne le contrôle du visiteur au portail.

Schéma de fonctionnement du contrôle du visiteur au portail

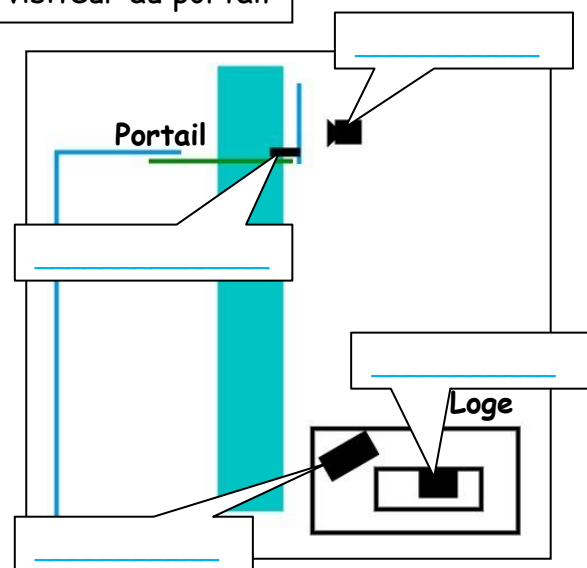
Le graphique ci-contre représente le fonctionnement du contrôle du visiteur au portail.

Ajoutez dans les cases les mots :

Caméra, Interphone, Interphone + appel, Moniteur

Vous relierez entre eux par un trait au crayon les éléments qui communiquent entre eux.

Vous indiquerez par des flèches le sens de transport de l'information.



On peut donc décrire le fonctionnement d'un système soit par un texte soit par un graphique que l'on appelle un _____.